



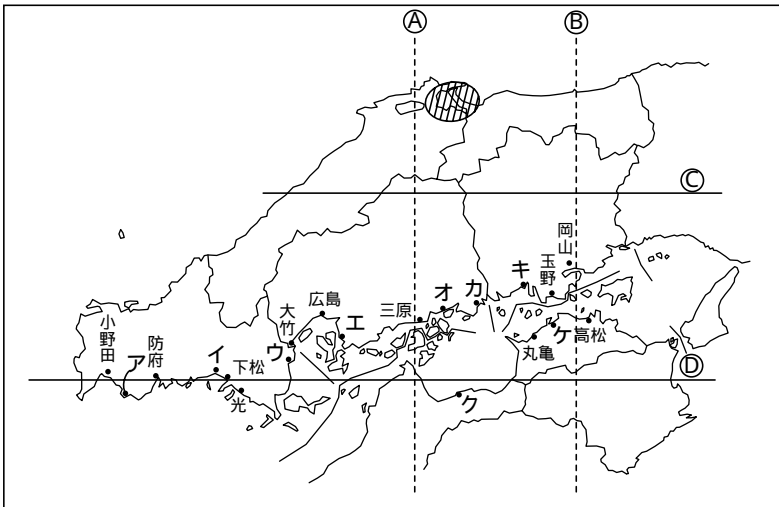
ユニット & コース 社会完成ユニット 地歴融合問題

中国・四国地方

中学受験専門
個別学習指導

地歴融合問題 中国・四国地方

1 中国・四国地方の工業について、次の問いに答えなさい。



問1 地図中のア～ケは、中国・四国地方の工業都市を示したものです。これについて次の問いに答えなさい。

(1) 地図中のイ・エ・カ・キの都市名を、それぞれ漢字で答えなさい。

イ		エ		カ		キ	
---	--	---	--	---	--	---	--

(2) 次の ~ の工業のさかんな都市の組み合わせとして最もふさわしいものを、あとのa～dから選び、記号で答えなさい。

造船 鉄鋼 石油化学

a エ・カ・キ

b イ・キ

c ア・エ・ク

d エ・オ・ケ

--	--	--	--	--

(3) 地図中のカの都市でつくられている伝統工業の製品を、次のア～エから選び、記号で答えなさい。

ア すずり

イ 琴

ウ うちわ

エ そめもの 染物

--

問2 瀬戸内海では、「赤潮」という現象が起き、沿岸の人々に対して大きな悪影響を与えていますが、これについて次の問いに答えなさい。

(1) 「赤潮」が瀬戸内海に特徴的に発生する理由はどのようなものですか。あやまっているものを、次のア～エから選び、記号で答えなさい。

ア 工場廃水がまったく規制されていないため。

イ 内海であり、海水のじゅんかんがあまりさかんではないため。

ウ 都市化が進み、生活排水によって海水が汚れたため。

エ 工業都市の多くが海ぞいに集中しているため、廃水で海が汚れやすい。

--

(2) また、これによって大きな被害を受ける例として、広島湾で養殖されている水産物があげられます。この水産物の名を答えなさい。(この水産物の生産は、広島県が全国一です。)

--

問3 地図中の.....(破線)と (実線)は、それぞれ経線と緯線を表しています。A・B・C・Dは、それぞれ何度になりますか。次の ~ から選び、番号で答えなさい。

134度

35度

133度

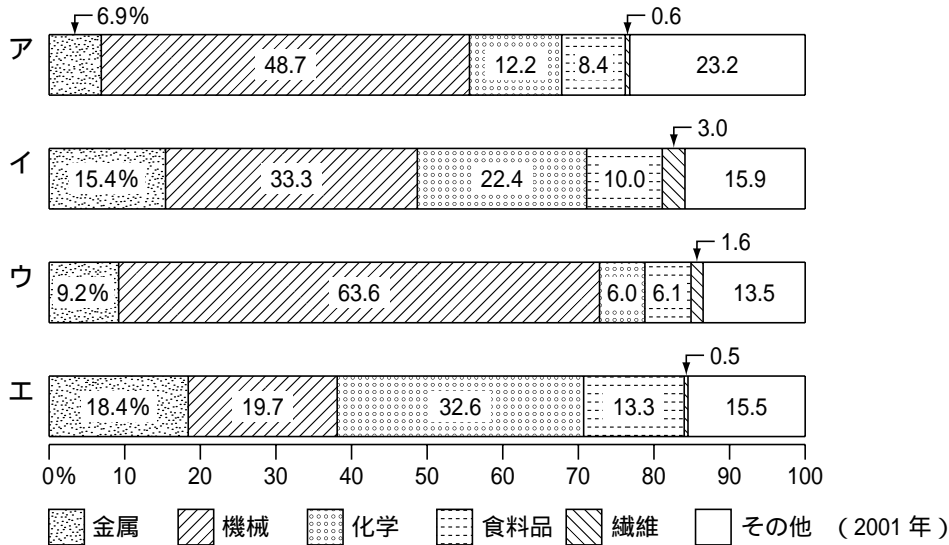
34度

36度

(北緯または東経は略してあります)

A		B		C		D	
---	--	---	--	---	--	---	--

問4 帯グラフはわが国のおもな工業地帯・工業地域の工業製品出荷額の割合を示しています。瀬戸内工業地域を示しているものを、次のア～エから選び、記号で答えなさい。



問5 次のア～エの文は瀬戸内工業地域の特色について述べたものです。正しくない文を選び、記号で答えなさい。

- ア 臨海工業地域であり、海岸沿いに多くの工業都市がある。
- イ 船・自動車・車両などの輸送用機械工業がさかんである。
- ウ 工業用地が少なく、降水量が少ないために工業用水が得にくい。
- エ 古くから、綿織物工業がさかんであり、戦前には軍需工場が多かったため、工業化の基礎が整っていた。

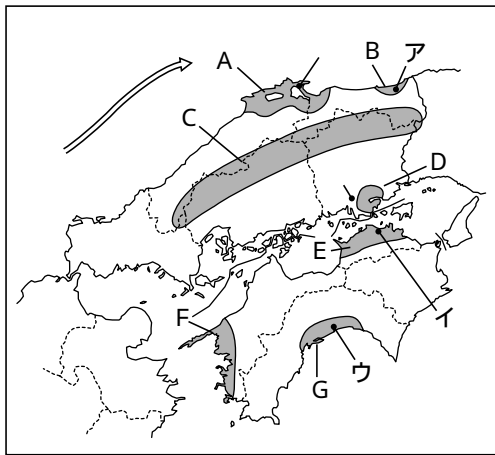
問6 地図中の斜線の地域について、次の問いに答えなさい。

(1) この地域はかつて新産業都市に指定されていきました。地区名を漢字で答えなさい。

(2) この地域に含まれる湖では政府による淡水化計画がおしすすめられてきましたが、1988年5月、計画は凍結されました。これは、ある生物を守るためにおこった住民運動によるものです。ある生物とは何ですか。カタカナ6字で答えなさい。

2 次の地図を見て、各問いに答えなさい。

問1 地図中の \longrightarrow の海流の名を漢字で答えなさい。



海流

問2 次の各文はA～Gのどの地域のことを述べていますか、記号で答えなさい。また、文中の【 】に適する語を答えなさい。

- (1) この平野には大きな砂丘があり、冬にはその砂が【 ア 】(8方位)の季節風によってふき上げられ、まわりの田畑に被害をあたえてきた。しかし、今では防砂林がつくられ、スプリンクラーでかんがいをして砂地を耕地にかえている。
- (2) この平野は古くから【 イ 】がおこなわれてきたところである。児島湾は有名で、今では湾はしめきられて淡水湖となり、農業用水に利用されている。
- (3) この地域のなだらかな山の斜面の果樹園は全国有数のみかんの産地で、入江では、たいや【 ウ 】(全国2位)、真珠(全国1位)などの養殖をおこなっている。
- (4) この地域が含まれる県は、明治維新の時に活やくした人物を多数輩出した。また、明治時代の自由民権運動の指導者も、この県出身である。
- (5) この地域では、古くからため池をつくり、かんがいに利用してきたが、隣の県の【 エ 】川から水を引く用水施設がととのえられた。
- (6) この地域では戦後、用排水路を縦横につくるなどの土地改良が進められ、耕地整理もおこなわれて、かつての湿田は乾田に生まれかわった。
- (7) この地方は和牛の産地であったが、安い輸入牛肉に押され、肉牛を飼う農家は減ってきている。過疎化が深刻な問題であったが、1983年に高速道路が開通してからは、付近には工場が多く進出するようになっている。

(1)	(2)	(3)	(4)	(5)	(6)	(7)
ア	イ	ウ	エ			

問3 地図中の 〇 の付近には、戦後河口を埋め立ててできた工業地域があります。その工業地域では、石油化学工業に関連する企業が一定の地域に集まって、効率的な工業生産をおこなっています。このような形態を何といいますか、答えなさい。

問4 地図中の 〇 は全国有数の水揚げ量をほこっている漁港です。何という港ですか、漢字で答えなさい。

港

問5 (4)の文の下線部について。この県出身の自由民権論者として適当な人名を、次のア～オから選び、記号で答えなさい。

ア 副島種臣そえじまたねおみ イ 江藤新平 ウ 坂本龍馬 エ 後藤象二郎ごとうしょうじろう オ 岩倉具視いもみ

--

問6 次の表は中国・四国地方で生産される農作物の県別生産割合を示しています。

表

	主産地〔%〕				
[A] 16	和歌山 16	静岡 13	熊本 9	佐賀 8	
山梨 26	長野 14	山形 10	[B] 7	福岡 5	
千葉 11	茨城 10	[C] 10	栃木 7	福島 7	
宮崎 22	茨城 18	[D] 11	鹿児島 8	岩手 6	
[D] 10	福岡 7	熊本 7	群馬 6	茨城 5	

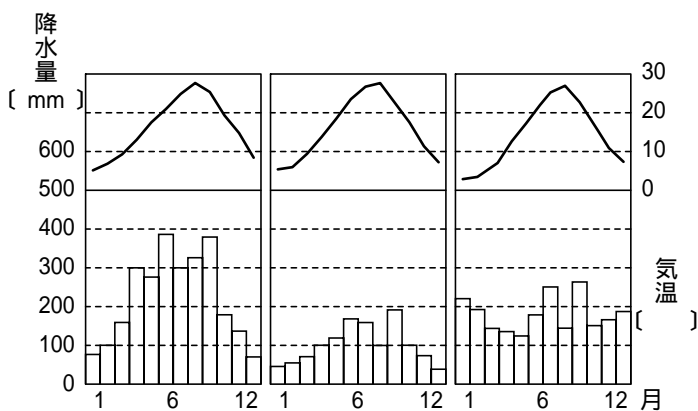
(2004 / 2005 「日本国勢図会」より)

(1) 表の ~ が表している農作物の名を答えなさい。

(2) 表のA～Dにあてはまる県名を漢字で答えなさい。

A		B		C		D	
---	--	---	--	---	--	---	--

問7 地図中のア～ウの都市の気候グラフとして正しいものを、次の ~ から、また、都市名として正しいものを、右のA～Eから選び、記号で答えなさい。



- A 広島
- B 高知
- C 鳥取
- D 松江
- E 高松

ア	グラフ		都市名		イ	グラフ		都市名		ウ	グラフ		都市名	
---	-----	--	-----	--	---	-----	--	-----	--	---	-----	--	-----	--

3 次の文章は、ケイタ君が遠いむかしに修学旅行で見たり聞いたりしたことをまとめたものです。よく読んで、あとの問いに答えなさい。

新幹線から見える瀬戸内の海を見ながら、ぼくはこれから始まる旅行にワクワクしていました。……(このあとは、弁当のこととか女の子の話し等、どうでもいい話が続くので割愛するが、まずは 広島に着き一日を過ごしたらしい…。)

広島駅から新下関駅まで、新幹線のこだま号で約1時間でした。新下関駅からバスに乗り、関門橋を渡って九州に入りました。橋の上から、源氏と平氏が戦った有名な古戦場をガイドさんに教えてもらいました。関門橋をわたるとすぐにバスを降り、今度は関門海底トンネルを歩いて下関にもどりました。このあと、下関市内をバスで見てまわりましたが、下関の港にはたくさんの外国船が停泊していました。

ぼくたちの乗ったバスは中国自動車道を通って 美祢市に行きました。このあたりは、石灰石の産地で、けずりとられた山の斜面が白くかがやいて印象的でした。秋芳洞を見学し、秋吉台スカイラインを通り、夕方、萩市に着きました。

夕食後、旅館の近くの萩焼の窯元に行き、ここで萩焼についていろいろ説明してもらいました。萩焼は今から400年ほど前、外国から来た職人によって始められたそうです。

次の朝、塾を見学しました。本当に小さな建物でびっくりしました。吉田松陰はここで といった人たちを教えたとのこと。幕末から明治時代にかけて活躍したこれらの人たちは、塾でどんなことを学んだのかたいへん興味をもちました。

白壁の美しい城下町の見学を終え、最後の見学地の山口市に向かいました。山口では国宝の瑠璃光寺五重塔とザビエル記念聖堂を見学しました。ザビエル記念堂は、フランシスコ＝ザビエルが山口でキリスト教の布教活動をおこなったことを記念して建てられたそうです。このあとぼくたちは…(むかしの記録なのでこのあと、判読不明)

問1 下線部 について、1955年この地で原水爆禁止世界大会が開かれましたが、この大会が開かれるきっかけとなった、前年におきた ビキニ環礁での出来事の名前を答えなさい。また、1996年にはすべての核実験を禁止する条約が、国際連合の総会で採択されましたが、この条約の名前を答えなさい。

出来事	事件	条約	条約

問2 下線部 について、次の問いに答えなさい。

(1) この源氏と平氏の戦いを何といいますか、答えなさい。

(2) この戦いの数十年後にその時の幕府を倒そうと後鳥羽上皇が挙兵をしました。この戦いを何といいますか。また、この戦いにやぶれた後鳥羽上皇はどこに流されましたか。またそれは現在の何県になりますか。それぞれ答えなさい。

戦い	島	県名

問3 下線部 について、たくさんの外国船とはどんな種類の船でしょうか。次のア～エから選び、記号で答えなさい。

- ア 原油を積んだサウジアラビアのタンカ イ 自動車を専門に運ぶアメリカ船
ウ 小麦を積んだカナダの大型貨物船 エ 魚を積んだ大韓民国の冷凍船

問4 下線部 について、この近くの工場では石灰岩を原料としてセメントをつくっていますが、セメントをはじめとして、陶土や非金属の材料をかまどを用いて加熱する工業をまとめて何とよびますか。また、その工業の製品としてあてはまらないものを、次のア～オから2つ選び、記号で答えなさい。

ア アスファルト イ ガラス ウ れんが エ プラスチック オ かわら

工業		記号	
----	--	----	--

問5 下線部 について、萩焼の始まりと関係が深い歴史上の事件は何ですか。次のア～エから選び、記号で答えなさい。

- ア 先進の文物をもとめて唐へ使節を送った。
- イ 元が日本にせめてきた。
- ウ 豊臣秀吉が朝鮮に出兵した。
- エ オランダと中国だけが、長崎で貿易をした。

問6 にあてはまる、吉田松陰が受け継いだ私塾を何といいますか。漢字で答えなさい。

塾

問7 の中であてはまらない人物を次のア～オから選び、記号で答えなさい。

ア 久坂玄瑞 イ 大村益次郎 ウ 井上馨 エ 伊藤博文 オ 高杉晋作

問8 下線部 について、次にあげる出来事を歴史の古いものから順番にならべかえ、記号で答えなさい。

- ア 王政復古の号令が発せられる
- イ 坂本龍馬の仲立ちで薩長同盟を結ぶ
- ウ 四国艦隊が下関を砲撃し上陸した
- エ 前原一誠まえばらいつせいによる萩の乱がおこる

問9 下線部 について、フランシスコ = ザビエルは山口から京都に行きましたが、ふたたび山口にもどり、ここでキリスト教の布教活動をしました。ザビエルが京都よりも山口を布教のために選んだ理由を、簡単に説明しなさい。